

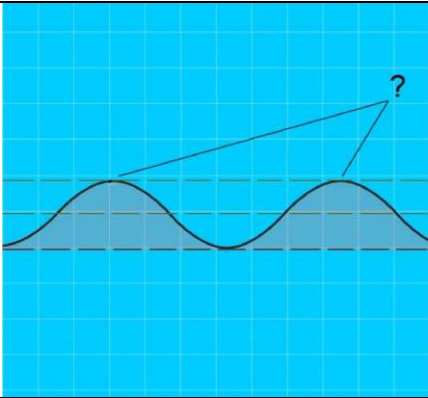
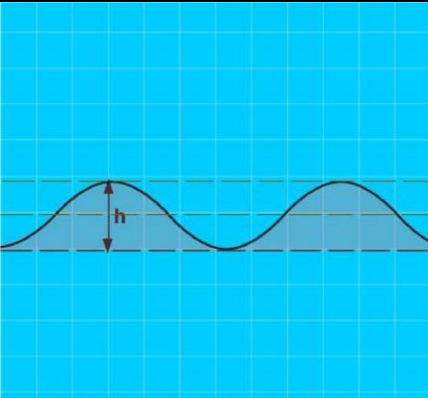


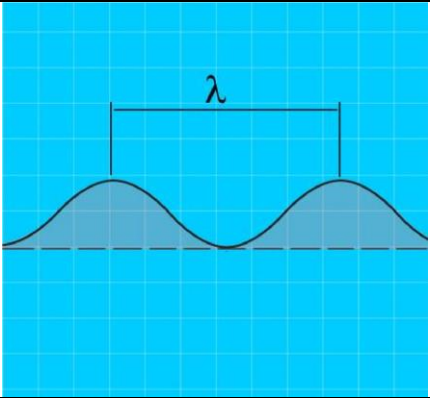
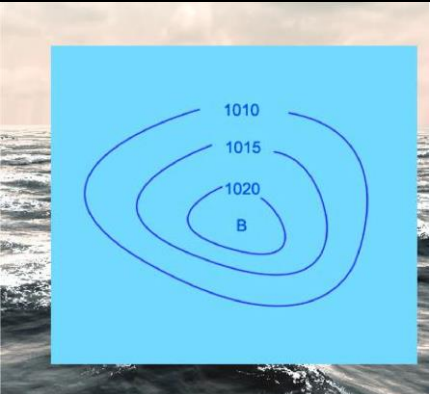







4.1. Основы метеорологии в районе плавания.



No	Вопрос	Иллюстрация	Варианты ответа (правильный выделен)
1.	Что измеряет барометр-анероид?		<ul style="list-style-type: none"><li>• <b>Атмосферное давление</b></li></ul>
2.	Что измеряется ручным анемометром?		<ul style="list-style-type: none"><li>• <b>Скорость ветра</b></li></ul>



<p>3.</p>	<p>Как называется наивысшая точка волнового профиля?</p>		<ul style="list-style-type: none"> <li>• <b>Гребень</b></li> </ul>
<p>4.</p>	<p>Как называется расстояние (h) от подошвы до гребня волны?</p>		<ul style="list-style-type: none"> <li>• <b>Высота волны</b></li> </ul>
<p>5.</p>	<p>Как называется ветер, дующий в сторону берега?</p>		<ul style="list-style-type: none"> <li>• <b>Навалный</b></li> </ul>



6.	Как называется разновидность тумана при видимости от 1 до 10 км?		<ul style="list-style-type: none"><li>• <b>Дымка</b></li></ul>
7.	Как называется расстояние между гребнями или подошвами двух смежных волн?		<ul style="list-style-type: none"><li>• <b>Длина волны</b></li></ul>
8.	Как называется область с повышенным давлением, которое понижается от центра к периферии?		<ul style="list-style-type: none"><li>• <b>Антициклон</b></li></ul>

9.	Признаком какого изменения погоды является резкое падение атмосферного давления?		<ul style="list-style-type: none"><li>• <b>Приближения шторма</b></li></ul>
10.	Как называется явление скопления микроскопических капелек воды в нижних слоях атмосферы?		<ul style="list-style-type: none"><li>• <b>Туман</b></li></ul>
11.	Как называется интенсивное (при забрызгивании) нарастание слоя льда на палубе, фальшборте, надстройках, рангоуте и палубных судовых устройствах?		<ul style="list-style-type: none"><li>• <b>Обледенение</b></li></ul>



<p>12.</p>	<p>Как называется ветер, дующий против течения реки?</p>		<ul style="list-style-type: none"> <li>• Низовой</li> </ul>
<p>13.</p>	<p>Как называется прибор для наблюдения за изменениями атмосферного давления и графической записи показаний?</p>		<ul style="list-style-type: none"> <li>• Барограф</li> </ul>
<p>14.</p>	<p>Какую погоду следует ожидать при резком падении атмосферного давления и появлении перисто-кучевых облаков?</p>		<ul style="list-style-type: none"> <li>• Грозу и шторм через 1-2 часа</li> </ul>


15.	Укажите единицу измерения силы ветра.		<ul style="list-style-type: none"><li>• <b>Балл</b></li></ul>
16.	Что означает выражение «Шторм 9 баллов»?		<ul style="list-style-type: none"><li>• <b>Ветер силой 9 баллов</b></li></ul>

17.	Как называется ветер, при котором воздух перемещается с запада на восток?		<ul style="list-style-type: none"><li>• <b>Западный</b></li></ul>
18.	Какое название носят приливы, имеющие две полные и две малые воды в течение лунных суток?		<ul style="list-style-type: none"><li>• <b>Полусуточные</b></li></ul>

19.	Какое название носят приливы, имеющие одну полную и одну малую воду в течение суток?		<ul style="list-style-type: none"><li>• <b>Суточные</b></li></ul>
20.	Какое название носят приливы, которые наблюдаются в дни новолуния и полнолуния?		<ul style="list-style-type: none"><li>• <b>Сизигийные</b></li></ul>



21.	Какое название носят приливы, которые наблюдаются в дни первой и последней четвертей луны?		<ul style="list-style-type: none"><li>• <b>Квадратурные</b></li></ul>
22.	Где будет находиться область высокого давления по отношению к человеку, стоящему спиной к ветру в северном полушарии?		<ul style="list-style-type: none"><li>• <b>Справа</b></li></ul>

23.	Как называется ветер, который дует днем с моря на сушу, а ночью с суши на море?		<ul style="list-style-type: none"><li>• <b>Бриз</b></li></ul>
24.	По какой шкале производится визуальная оценка силы ветра?		<ul style="list-style-type: none"><li>• <b>Бофорта</b></li></ul>